

20241113

後期中間試験対策問題

第1回



以下の番号の問題を解いてください。

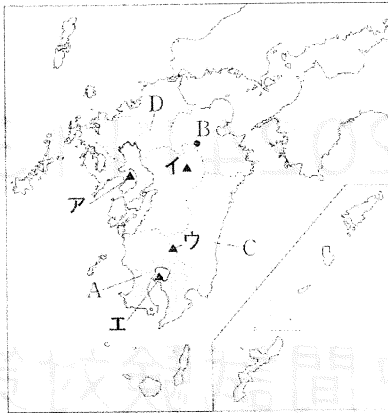
鷹取... 1, 2, 3, 4, 5, 6, 7, 8, 9, _____

追浜... 1, 2, 3, 4, 5, 6, 7, 8, 9, 10, _____

Answer!

1. 九州地方

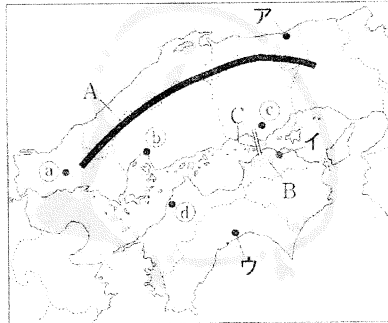
- 巨大なカルデラが見られる火山を地図中のア～エから選び、記号で答えなさい。
- 地図中のAに広がる、火山灰が積もってできた台地を何というか。
- 地図中のBでは、火山の特性を生かしたある発電を行っている。この発電の種類を答えなさい。
- 地図中のC・Dの地域でさかんな農業を次からそれぞれ選んで答えなさい。



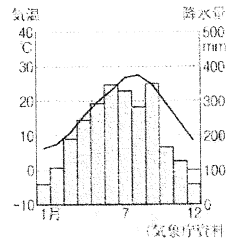
- ア きゅうりやピーマンなどの促成栽培
 イ 豚、鶏、肉牛の畜産や畑作
 ウ 米と小麦や大麦の二毛作
 エ さとうきびやパイナップルの栽培

2. 中国・四国地方

- 地図中のAの山地の名前を答えなさい。
- 地図中のBの平野などで、かんがい用に利用されてきた池を何というか。
- 資料の雨温図にあてはまる都市を地図中のア～ウから選び、記号で答えなさい。
- 本州四国連絡橋のうち、地図中のCの橋を何というか。
- 次の文にあてはまる都市を地図中の①～④から選び、記号で答えなさい。



資料



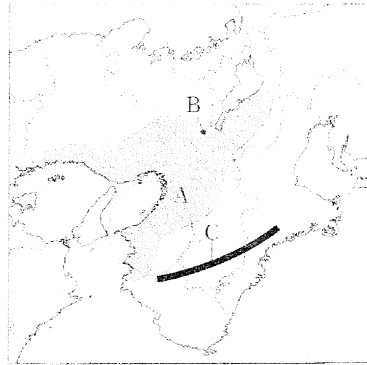
原子爆弾を投下され大きな被害を受けたが、戦後復興し、平和記念都市として、核兵器の悲惨さを伝える運動を行っている。

3. 近畿地方

(1) 地図中のAの工業地帯を何というか。

(2) 地図中のAの工業地帯では、近年、臨海部の工場のあと地などで新しい産業の工場が立地している。この工場の製品を次から2つ選び、記号で答えなさい。

- ア 繊維
- イ 太陽光パネル
- ウ 鉄鋼
- エ 蓄電池



(3) 資料は、重要文化財の地方別割合を示している。近畿地方にあてはまるものを資料中のア～エから選び、記号で答えなさい。

資料

		九州 4.4	東北 5.3
ア 45.9%	イ 27.3	ウ 10.5	エ 8.2
中国(含まず) 2020年		北海道 0.4	
		文化庁資料	

(4) 地図中のBの都市の伝統的工芸品を次の〔 〕から選んで答えなさい。

- 〔 熊野筆 会津塗 萩焼 清水焼 〕

(5) 地図中のCの山地では、世界遺産に登録された〔 〕の山道の保全活動が行われている。〔 〕にあてはまる語句を答えなさい。

4. 中部地方

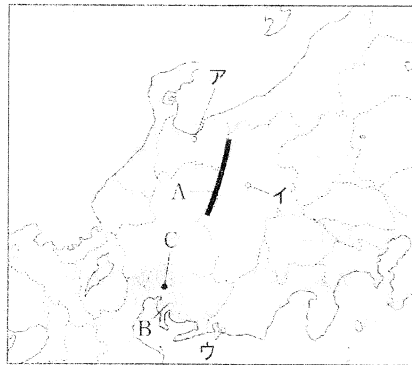
(1) 地図中のAの山脈名を答えなさい。

(2) 資料の雨温図にあてはまる都市を地図中のア～ウから選び、記号で答えなさい。

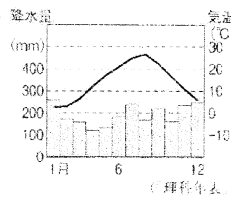
(3) 地図中のBの工業地帯にあてはまらないものを次から1つ選び、記号で答えなさい。

- ア 日本で最も出荷額が多い。
- イ 自動車工業がさかんである。
- ウ かつて繊維工業がさかんだった。
- エ 付近の石炭を利用して発展した。

(4) 地図中のCの都市を中心に形成される大都市圏を〔 〕大都市圏という。〔 〕にあてはまる語句を答えなさい。



資料



5. 関東地方

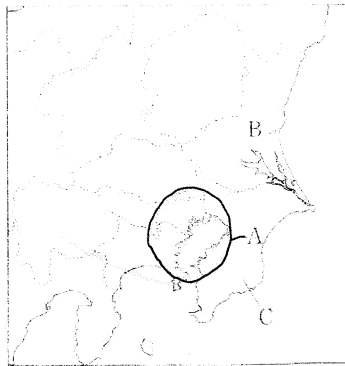
- (1) 人口が集中する東京都で特に発展している産業を次から2つ選び、記号で答えなさい。

ア 商業 イ 農業
ウ 林業 エ サービス業

- (2) 地図中のAの範囲内にある工業地帯の名前を答えなさい。

- (3) 資料は、(2)の工業地帯でさかんな工業の、都道府県別生産額割合を示している。この工業にあてはまるものを次から選び、記号で答えなさい。

ア 繊維工業 イ 自動車工業
ウ 製紙・パルプ工業
エ 印刷業



資料

東京	埼玉	大阪	その他
15.5%	14.2	9.3	50.1
愛知 6.3			
京都 4.6			

(2017年) (工業統計表)

- (4) 地図中のB県では、大都市向けに野菜などを栽培する農業がさかんである。このような農業を何というか。
- (5) 地図中のCの半島では、温暖な気候を生かした花の栽培がさかんである。Cの半島の名前を答えなさい。

6. 東北地方

- (1) []川は、山形県南部から流れて山形盆地などを通り、日本海にそそぐ。
- (2) (1)の川の下流部に広がる[]平野は、稲作がさかんである。
- (3) 青森県と秋田県の県境には、世界遺産に登録された[]山地がある。
- (4) 東北地方の日本海側は、冬に北西から吹く[]の影響で雪が多い。
- (5) 初夏に東北地方の太平洋側に吹く冷たい北東風を何というか。
- (6) 1970年ごろから政府が行ってきた、米の生産量を減らす政策を何というか。
- (7) 山形県の「はえぬぎ」や秋田県の「あきたこまち」のように、産地や品種を登録した米を何というか。

7. 北海道地方

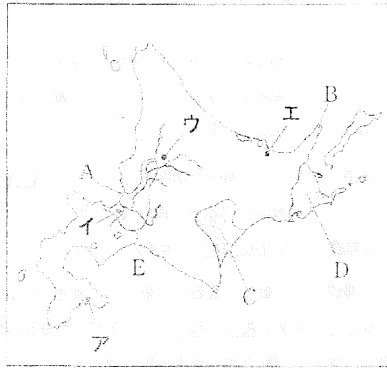
(1) 地図中のAの川の名前を答えなさい。

(2) 地図中のBの半島の周辺は、貴重な生態系が見られ、世界自然遺産に登録されている。この半島を何というか。

(3) 地図中のCの平野やDの台地の沿岸部では、濃霧が発生しやすい。その原因を簡単に説明しなさい。

(4) 地図中のEの平野の土地は、もともと農業に適さない湿地であった。この湿地を何というか。

(5) 約190万人(2019年)もの人々が暮らす北海道最大の都市を地図中のア～エから選び、記号で答えなさい。



8. 関東地方（発展）

関東地方について、次の問いに答えなさい。

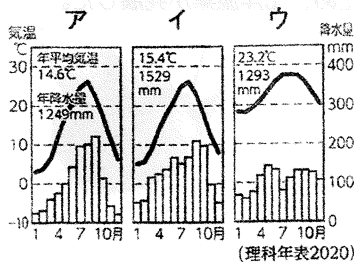
(1) 雨温図のうち、東京と前橋の雨温図の組み合わせを、次の1～4の中から選んで番号で答えなさい。

1. 東京：ア 前橋：イ 2. 東京：イ 前橋：ア
3. 東京：ア 前橋：ウ 4. 東京：イ 前橋：ウ

(2) 関東地方の一都六県の比較した次の表の中の、A～Dのうち、次の2つの文の「この県」に当てはまるものを選んで、記号で答えなさい。

- ① この県にある政令指定都市のひとつが、相模原市である。
② この県のいちごの生産量は全国有数で、とちおとめが有名である。

うらなひ ちからじょう
雨温図は父島、東京、前橋市のいずれか。



都県名	農業産出額 (億円/2018年)	工業生産額 (億円/2017年)	小売業販売額 (億円/2015年)
	と関東内順位	と関東内順位	と関東内順位
A	4,508 1位(全国3位)	123,377 3位	31,621 5位
埼玉県	1,758 5位	137,006 2位	71,529 3位
B	697 6位	180,845 1位(全国2位)	93,767 2位
群馬県	2,454 4位	90,985 6位	22,426 7位
C	240 7位	79,116 7位	205,744 1位(全国1位)
千葉県	4,259 2位	121,895 4位	64,055 4位
D	2,871 3位	82,793 5位	22,958 6位

9. 東北・北海道地方（発展）

以下の文章は、東北地方と北海道地方についてまとめたものである。これを見て、次の問いに答えなさい。

東北の日本海側は冬に雪が多く、太平洋側は夏の日照不足や冷害に直面します。北海道は亜寒帯に属し長い冬は大変な寒さに襲われます。日本海側ほど多雪であり、その対策を講じるとともに、雪を生活に役立てる【あ】の取り組みも進められています。

東北は「日本の【い】地帯」と呼ばれ、稲作も畑作も盛んです。㉔農村の近代化が進み、交通網が発達して工場も進出しています。北海道は「日本の食料【う】」と呼ばれ、稲作・畑作や酪農のほか、㉕近年は「育てる漁業」にも力を入れています。

豊かな自然に恵まれた東北・北海道では、観光も重要な産業です。東北では伝統的な生活・文化を生かし、㉖祭りや文化財、食べ物などの多様な観光資源が見られます。北海道の雄大な自然や、㉗も大きな魅力であり、㉘外国人観光客数も増加しています。

私は、東北・北海道地方のこれからの課題は、両地方とも経済が発展してきましたが、ここでも過疎化を改善することだと思います。地域の特色を生かした地域おこしの取り組みが今後も大切です。そのためにも、両地方の自然や文化の保護に努めつつ、【え】ツアーをはじめ、持続可能な社会づくりと両立する観光業の発展などが期待されます。

- (1) 文中の【あ】～【え】のうち、「エコ」と「穀倉」という語句があてはまる箇所を、それぞれ選びなさい。
- (2) 文中の下線部㉔に関して、東北地方における工場・出稼ぎについて言えることとして正しいものを、次から選びなさい。
 1. 工場で働く人が増えたことによって、出稼ぎ者数は増加し、工業出荷額は増加した。
 2. 工場で働く人が増えたことによって、出稼ぎ者数は減少し、工業出荷額は増加した。
 3. 工場で働く人が減ったことによって、出稼ぎ者数は増加し、工業出荷額は減少した。
 4. 工場で働く人が減ったことによって、出稼ぎ者数は減少し、工業出荷額は減少した。
- (3) 文中の下線部㉕に関して、北海道の漁業について正しく述べている文を次の1～4から選び、番号で答えなさい。
 1. 各国が排他的経済水域を設定すると、漁ができる範囲が限られたため、北洋漁業は衰退した。
 2. 各国が排他的経済水域を設定すると、漁ができる範囲が広がったため、北洋漁業が発展した。
 3. 各国が排他的経済水域を廃止すると、漁ができる範囲が限られたため、北洋漁業は衰退した。
 4. 各国が排他的経済水域を廃止すると、漁ができる範囲が広がったため、北洋漁業が発展した。
- (4) 文中の下線部㉖に関して、右の資料はどのような観光資源の1つか。1～4から選び、番号で答えなさい。
 1. 祭り
 2. 文化財
 3. 食事
 4. 伝統的工芸品
- (5) 文中の下線部㉗に関して、右の資料のものはどの県で有名か。1～4から選び、番号で答えなさい。
 1. 秋田県
 2. 岩手県
 3. 青森県
 4. 福島県



10. アジア州

- (1) 降水量があまり多くない中国北部やインド西部などでは、〔小麦 米〕やとうもろこしを栽培している。
- (2) インドのガンジス川流域や東南アジアの平野では、〔稲作 遊牧〕がさかんである。
- (3) キリスト教は、ヨーロッパ人によってアジア各国に伝えられ、〔タイ フイリピン〕に広まった。
- (4) 西アジアと中央アジアで広く信仰されている〔仏教 イスラム教〕は、マレーシアやインドネシアにも広まった。

11. アフリカ州

- (1) 北アフリカは、〔イスラム キリスト〕教の信者が多い。
- (2) 16世紀から、アフリカの多くの人が〔奴隷 移民〕として南北アメリカに連れていかれた。
- (3) 北アフリカは、〔アラビア語 フランス語〕を話す人が多い。
- (4) 2002年、アフリカの54の国と地域によって〔A U E U〕が結成された。

12. ヨーロッパ州 (おまけ)

- (1) キリスト教のおもな3つの宗派のうち、次の①～③にあてはまるものをあとの〔 〕からそれぞれ選んで答えなさい。
 - ① イギリスやスウェーデン、ドイツなどの国々に分布する宗派。
 - ② イタリアやフランス、スペインなどの国々に分布する宗派。
 - ③ ロシアやウクライナ、ギリシャなどの国々に分布する宗派。〔 カトリック 正教会 プロテスタント 〕